

Opgave 1 – Wereld: Import en export van Australië

Bestudeer bron 1 uit het bronnenboekje die bij deze opgave hoort.

De export van Australië was tot ongeveer 50 jaar geleden vooral gericht op één land. Dat land behoort nu niet meer tot de top 5 exportlanden (zie bron 1).

1p 1 Welk land is dat?

Gebruik bron 1.

2p 2 Geef aan

- welke positie Australië inneemt in het wereldsysteem;
- waarin het exportpakket van Australië afwijkt van dat van de meeste landen met een vergelijkbare positie in het wereldsysteem.

De laatste decennia is *global shift* van invloed op de relatieve ligging van Australië.

1p 3 Geef aan op welke wijze *global shift* van invloed is op de relatieve ligging van Australië.

Australië exporteerde 50 jaar geleden nog weinig naar China, maar tegenwoordig is China de belangrijkste exportbestemming.

3p 4 Geef aan op welke wijze de volgende factoren hieraan bijdroegen:

- een politieke verandering in China;
- een economische ontwikkeling in China;
- een natuurlijk kenmerk van China.

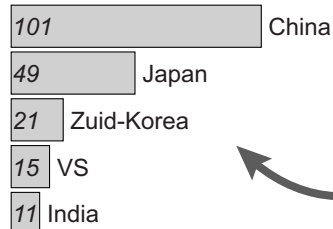
Opgave 1 – Wereld: Import en export van Australië

bron 1

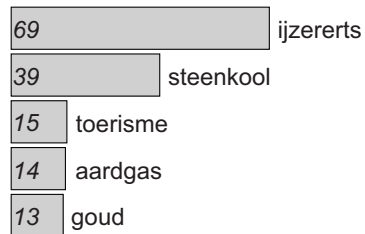
Import en export van Australië in 2013 (x miljard Australische dollar)

A\$ 318.5 miljard
totale waarde van de export

Top 5 exportlanden



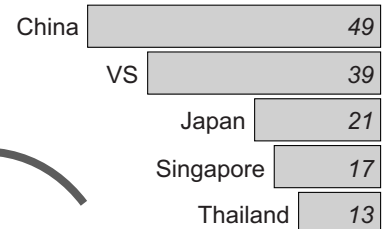
Top 5 export



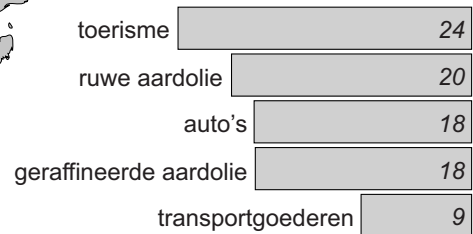
Legenda:
A\$ Australische dollar (x miljard)

A\$ 328.7 miljard
totale waarde van de import

Top 5 importlanden



Top 5 import



Bronvermelding

Een opsomming van de in dit examen gebruikte bronnen, zoals teksten en afbeeldingen, is te vinden in het bij dit examen behorende correctievoorschrift, dat na afloop van het examen wordt gepubliceerd.